



SINDHI HIGH SCHOOL, BENGALURU
HALF YEARLY EXAMINATION (2023-24)
SUBJECT - English

Class: VI

Marks: 80

Duration: 2½ hrs

Reading Time: 15 mins

Writing Time: 2½ hrs

Date: 09/10/2023

Number of printed sides: 06

GENERAL INSTRUCTIONS:

1. This paper consists of three sections.
Section A Reading - 20 marks
Section B Writing & Grammar - 20 marks
Section C Literature - 40 marks
2. Attempt all questions adhering to the word limit.

SECTION - A (READING)

(1x10=10)

I. Read the passage and answer the questions that follow.

1. When I was in my second grade, my parents insisted that I take up swimming during the summer. However, I was afraid of water. It was nice to see other people dive or swim, but not myself. I liked to watch by the poolside. Despite my resistance, I was taken for my first swimming lesson on a Sunday.

2. As we entered the pool premises, I remember hiding behind my mother while she talked to the instructor. Fortunately, my instructor understood my fears and was patient with me. He helped me into the wading pool. The water, which reached a level of no more than 2 feet was warm and comfortable. That was a big relief for me and it made me less fearful.

3. My session at the wading pool entailed walking on hands along the pool bottom and kicking my legs as I moved. Next, I was taken to the medium pool to learn how to float. The water was shallow, coming up to my waist. I learnt different ways of staying afloat. At first, I lay on my back, arms and legs stretched in star shape, with my instructor holding me up. Very soon, I got my balance and could float with my body totally relaxed. Next, I lay with my face down in the water, with arms and legs outstretched. I tried to float a number of times. That was rather easy and I enjoyed it.

4. I gained a lot of confidence and was interested in swimming now. In subsequent lessons, I learnt new techniques. It has been more than four years now since I took up swimming. Today, I take part in swimming competitions and have won several prizes.

i) The narrator did not take up swimming because he _____.

- a) liked to dive in the water
- b) scared of water

- b) was free only on Sundays
- c) was too young to take up swimming

- ii) The meaning of wading pool is _____
- a) shallow baby pool
 - b) deep pool
 - c) dangerous pool
 - d) wavy pool
- iii) The water in the wading pool was _____
- a) more than 2 feet
 - b) not more than 2 feet
 - c) more than 4 feet
 - d) not more than 6 feet
- iv) 'The narrator was not afraid of water and loved to dive or swim.'

The above sentence is -

a) true
b) false

v). Based on your understanding, choose the **word/phrase** that is closest in meaning to the one given in the passage: (3 marks)

- a) **insisted-**
- (i) disobedient
 - (ii) stand firm
 - (iii) swore
 - (iv) habit
- b) **resistance**
- (i) refusal to go along with
 - (ii) challenge
 - (iii) struggle
 - (iv) coolness
- c) **subsequent**
- i) preceding
 - ii) following
 - iii) much early
 - iv) much later

vi) What was the first thing the swimming instructor did to put the narrator at ease?

vii) What did the narrator learn in the medium pool ?

viii) **Complete the sentence.**
Very soon, I got my balance and _____.


II. Read the passage and answer the questions. (1x10=10)

1. The dog family is one of the eleven families that make up the carnivores, a large group of wise, flesh-eating, backboned animals. In this group are such varied animals as bears, pandas, raccoons, cats, hyenas, and even seal. The dog or canine family has many wild species like wolves, foxes, jackals, and wild dogs.
2. The dog is the only domesticated member of the canine family. All members of the dog family are descendants of a wolf-like animal lived about 15 million years ago. From this distant ancestor, the true dogs gradually developed. But nobody knows the exact ancestor of the modern domestic dog.
3. Several wild dogs look and behave like domestic dogs. The dingo or wild dog of Australia is one of these. It is possible that the dingo was a tamed dog brought to Australia long ago which then ran wild.
4. Dogs were the first animals tamed by humans in Europe - perhaps 25,000 years ago. Dogs were first used for hunting. Highly intelligent, dogs have the capability of expressing their joy and happiness by wagging their tails. Dogs' sense of smell and hearing can be pretty amazing ! They tilt their head to locate the source of sound. They are rightly called as the most loyal and faithful friend of a man.

- i. How do dogs express their happiness?
 a) By howling in the night
 b) By wagging their tails
 c) By barking at strangers
 d) By eating their food
- ii. Name a wild dog of Australia that looks and behaves like a domestic dog.
 a) Raccoon
 b) German Shepherd
 c) Dingo
 d) Panda
- iii. Who first tamed the dogs?
 a) Australia
 b) India
 c) Europe
 d) America
- iv. Dogs were initially used for _____
 a) Running
 b) hunting
 c) carrying loads
 d) guarding
- v. Why do dogs tilt their head?
 a) To smell for food
 b) To see things clearly
 c) To locate the source of sound
 d) To catch cats
- vi. Find the antonyms of these words from the above passage. ($\frac{1}{2} \times 4 = 2$)
 (i) ancestor x _____
 (ii) wild x _____
 (iii) near x _____
 (iv) ancient x _____
- vii. According to the passage in para (4) the word 'loyal' means _____.
 a) friendly
 b) sometimes becomes carnivores
 c) most grateful
 d) attacks strangers
- viii. 'Dogs don't belong to the carnivore family'. This sentence is -
 a) Correct
 b) Incorrect
- ix. Find the synonym of the word 'clever' from para 4.

SECTION - B (Writing & Grammar)

III. Look at the pictures given and write a story in your own words. Give a suitable title (5marks)
 to the story.



IV. Write down a biographical sketch of Lionel Messi with the help of the given notes

Full name: Lionel Andrés Messi

Born: 24 June 1987, Argentina

Jersey number - #10 (Argentina)

Achievements-

1995
2000
2004-05

2008
2009- 2019

2022
2023

Joined the Youth team of Newell's Old Boys
Began playing for FC Barcelona's under-14 team
Became the youngest official player and goal scorer
in the Spanish La Liga (the country's highest division of football)
Olympic gold medal winner
Won the Ballon D'Or, the annual award given to the
best player in the world, 7 times
FIFA World Cup winner
Best FIFA men's player award

10 Marks

V. Do as directed for the following :-

1. Complete the following passage with the correct form of verb given in the brackets. (1 x 4 = 4)

One has been done as an example

Sujata eg. asked (ask) me how long I (a) _____ (wait) for the tickets yesterday. I (b) _____ (tell) her that Mala and I (c) _____ (stand) in line for three hours. The film (d) _____ (be) worth watching because it had a great deal of information.

2. Choose the correct option for the following paragraph. One has been done as an example. (1 x 3 = 3)

Last Sunday, I went eg. to the railway station. There was a large crowd (a) _____ passengers. People stood (b) _____ a long queue (c) _____ the booking window.

- a) (i) of ii) with iii) by iv) in
b) (i) by ii) with iii) in iv) on
c) (i) for ii) with iii) in iv) at

3. Complete the passage with the correct form of adjectives given below. (½ x 6 = 3)

I live in a family of five people. My father is the (a) _____ (elder). I have a sister who is (b) _____ (old) than me. My sister is the (c) _____ (pretty) in the family and my brother is the (d) _____ (handsome). On my birthday I get the (e) _____ (big) and the (f) _____ (delicious) cake.

SECTION C- LITERATURE
VI. Read the extracts and answer the questions that follow.

"Too boring," he said. His teachers told him, "Do your homework or you won't learn a thing." And it's true, sometimes he did feel like an ignoramus. (1x4=4)

- a) Who never did his home work?
i) the elf ii) teacher iii) Patrick iv) Patrick's friend
- b) What did he do instead ?
i) he played hockey, basketball and Nintendo instead. iii) he used to sleep instead.
ii) he used to practise dance instead. iv) he used to fight instead.
- c) Give the meaning of "ignoramus".
i) a person who ignores his health iii) a person who always studies.
ii) a person who lacks education iv) a person who knows everything.
- d) The writer of this lesson is _____
i) Lorraine.M .Halli ii) Harry Behn
iii) Carol Moore iv) Ruskin Bond


(1 x 4 = 4)

2) "I quarrelled with my brother
I don't know what about,
One thing led to another
And somehow we fell out.
The start of it was slight,
The end of it was strong,
He said he was right
I knew he was wrong!"

- (a) With whom did the poet quarrel?
i) brother ii) sister iii) friend iv) parent
- b) The line 'one thing led to another' here means _____
i) They went on arguing.
ii) They stopped the fight after one thing happened.
iii) One thing that happened was petty.
iv) They liked each other after one thing.
- c) The poet of this poem is _____
i) William Wordsworth ii) Peter Dixon
ii) Eleanor Farjeon iv) Mary O'Neill
- d) Pick out a pair of rhyming words from the above lines.



SINDHI HIGH SCHOOL, BANGALORE
HALF YEARLY EXAMINATION 2023-24
SUBJECT- ADDITIONAL HINDI



DATE: 11-10-2023
CLASS : 6
No. of sides:- 4

MAX. MARKS : 30
TIME : 1 HR 10 min
Reading time :- 8.00 am to 8:15am
Writing time :- 8:15 am 9:10am

सामान्य निर्देश-

- * इस प्रश्न पत्र के चार खंड हैं - क ख ग घ
- * सभी प्रश्नों के उत्तर क्रमानुसार लिखिए -
- * सभी खंडों के सभी प्रश्नों के उत्तर देना अनिवार्य है।

1. निम्नलिखित अनुच्छेद ध्यानपूर्वक पढ़कर सही विकल्प चुनकर लिखिए :-

खंड - क

5

संसार का प्रत्येक प्राणी परिश्रम करता है। मनुष्य और पशु पक्षी दिन-रात अपने-अपने काम में जुटे रहते हैं। परिश्रम से ही मनुष्य ने सभ्य जीवन प्राप्त किया है। परिश्रम द्वारा असंभव कार्य भी संभव हो जाता है। जीवन की सफलता परिश्रम करने से मिलती है। जो लोग परिश्रम छोड़कर भाग्य का सहारा लेते हैं, वे असफल रहते हैं। मनुष्य परिश्रम से ही अपना भाग्य बनाता है। ईश्वर भी परिश्रमी व्यक्ति को सहायता करता है।

1. जीवन में सफलता कैसे मिलती है?
क. धन से () ख. खेलकूद से () ग. परिश्रम से () घ. भाग्य से ()
2. परिश्रम से मनुष्य कैसा जीवन प्राप्त कर सकता है?
क. असभ्य () ख. सभ्य () ग. दुखी () घ. उन्नत ()
3. जो लोग परिश्रम छोड़कर भाग्य का सहारा लेते हैं, वे रहते हैं?
क. सफल () ख. असफल () ग. मेहनती () घ. परिश्रमी ()
4. परिश्रमी व्यक्ति की सहायता कौन करता है?
क. ईश्वर () ख. मनुष्य () ग. भाग्य () घ. प्राणी ()
5. सफल का विलोम शब्द होगा -
क. मेहनती () ख. सुफल () ग. असफल () घ. सफलता ()

II. विलोम शब्द लिखिए :-

क. उपस्थित x _____

ख. पवित्र x _____

1

III. लिंग बदलकर लिखिए :-

क. नौकर = _____

ख. भाई = _____

1

IV. मुहावरों के अर्थ लिखिए :-

क. हाथ लगाना = _____

ख. माथे पर बल पड़ना = _____

1

V. सही जगह पर अनुस्वार लगाइए :-

क. ससार = _____

ख. पतग = _____

1

VI. अनुनासिक शब्दों को चुनिए :-

क. पहुँचँ () ख. कुआँ () ग. चाँद () घ. गाँव ()

1

VII. वचन बदलिए :-

क. तितली = _____

ख. लड़की = _____

1

VIII. पर्यायवाची शब्द लिखिए :-

क. रात = _____

ख. उपवन = _____

1

IX. सामान तुक वाले शब्द लिखिए :-

क. काया = _____

ख. आऊँ = _____

1

X. इन्हें जोड़कर लिखिए :-

क. ईमान + दार = _____

ख. मित्र + ता = _____

1

XI. वाक्य बनाइए :-

क. सवेरा = _____

1

XII. प्रश्नों के उत्तर लिखिए :-

1. "भूल गया है क्यों इनसान" कविता के रचयिता कौन हैं ?

5

2. कौन, क्या बेच रहा था ?

3. दीवाली का दृश्य कहाँ दिखाई दे रहा है ?

4. रामू की बहू किससे घृणा करती थी ?

5. पंडितजी का पूरा नाम क्या था ?

XIII. गद्यांश पढ़कर सही विकल्प चुनिए :-

5

● रत त्योहारों का देश है। बिहू त्योहार भारत के उत्तर पूर्वी राज्य असम का प्रमुख त्योहार है। यह त्योहार वहाँ की खेती के साथ जुड़ा हुआ है। यह त्योहार हर वर्ष में 3 बार मनाया जाता है। बिहू उत्सवों में "बोहाग बिहू" या "रंगोली बिहू" सबसे प्रमुख है। रंगोली का अर्थ होता है रंगीन या आनंदमय होना। यह त्योहार वसंत ऋतु के आगमन की खुशी में मनाया जाता है। यह उत्सव कृषि कार्य की शुरुआत को दर्शाता है। इस त्योहार के आरंभ में सभी लोग अग्नि देवता की पूजा करते हैं। इस दिन वे बाँसों से एक मंदिर जैसी आकृति बनाते हैं, जिसे असमी भाषा में मेजी कहते हैं। "कंगाली बिहू" या "काती बिहू" कार्तिक माह में मनाया जाता है। इसलिए बिहू आनंद और समृद्धि का त्योहार है।

1. बिहू का संबंध इनमें से किससे है ?

क. व्यवसाय से ()

ग. नौकरी से ()

ख. खेती से ()

घ. इनमें से कोई नहीं ()

2. रंगोली का क्या अर्थ है ?

क. उदास होना ()

ग. दुखी होना ()

ख. आनंदमय होना ()

घ. इनमें से कोई नहीं ()

3. रंगोली का त्योहार किस ऋतु के आगमन की खुशी में मनाया जाता है ?

क. ग्रीष्म ऋतु ()

ग. शरद ऋतु ()

ख. वर्षा ऋतु ()

घ. वसंत ऋतु ()

4. मेजी किसे कहते हैं ?

क. बाँसों की बनी मंदिर की आकृति को ()

ग. लोकनृत्य को ()

ख. लोकगीत को ()

घ. वाद्य यंत्र को ()



SINDHI HIGH SCHOOL, BENGALURU -01
HALF YEARLY EXAMINATION - 2023 - 24

SUBJECT: Kannada – L2
CLASS – VI
DATE -05- 10 -2023

Max Marks - 80
Reading time – 8:00 am to 8:15am
Writing time – 8:15am to 10:45am
No of sides – 12

ಸೂಚನೆಗಳು:

- *ಪತ್ರಿಕೆಯು A ಮತ್ತು B ಎಂಬ ಎರಡು ಭಾಗಗಳನ್ನು ಮತ್ತು A B C D ಎಂಬ ಲಿ ವಿಭಾಗಗಳನ್ನು ಒಳಗೊಂಡಿರುತ್ತದೆ.
- *ಪ್ರಶ್ನೆಪತ್ರಿಕೆಯಲ್ಲಿ ಒಟ್ಟು 14 ಮುಖ್ಯ ಪ್ರಶ್ನೆಗಳಿರುತ್ತವೆ.
- *ಪ್ರತಿಯೊಂದು ಪ್ರಶ್ನೆಗಳ ಸೂಚನೆಗಳನ್ನು ಸರಿಯಾಗಿ ಓದಿಕೊಂಡು ಉತ್ತರಿಸಿ.
- * ಪ್ರಶ್ನೆ ಮತ್ತು ಉಪಪ್ರಶ್ನೆಗಳ ಸಂಖ್ಯೆಯನ್ನು ತಪ್ಪಿಲ್ಲದೆ ಬರೆಯಿರಿ.

ಭಾಗ - A (40 ಅಂಕಗಳು)	ವಾಚನ ಮತ್ತು ಗ್ರಹಿಕಾ ಕೌಶಲ್ಯ	20 ಅಂಕಗಳು
	ಅನ್ವಯಿಕ ವ್ಯಾಕರಣ	15 ಅಂಕಗಳು
	ಬಹು ಆಯ್ಕೆ ಪ್ರಶ್ನೆ - ಪಠ್ಯಗಳ ಅಧ್ಯಯನ	5 ಅಂಕಗಳು
ಭಾಗ - B (40 ಅಂಕಗಳು)	ಬರವಣಿಗೆ ಕೌಶಲ್ಯ	12 ಅಂಕಗಳು
	ಪಠ್ಯಗಳ ಅಧ್ಯಯನ	28 ಅಂಕಗಳು
	ಒಟ್ಟು ಅಂಕಗಳು	80 ಅಂಕಗಳು

PART - A (40 ಅಂಕಗಳು)

SECTION -A

(ವಾಚನ ಮತ್ತು ಗ್ರಹಿಕಾ ಕೌಶಲ್ಯ- 10 ಅಂಕಗಳು)

1 ಕೆಳಗಿನ ಗದ್ಯಭಾಗವನ್ನು ಓದಿಕೊಂಡು, ಕೊಟ್ಟಿರುವ ಬಹು ಆಯ್ಕೆ ಪ್ರಶ್ನೆಗಳಿಗೆ ಉತ್ತರಿಸಿ. 1X5=5

ಉತ್ತರ ಕರ್ನಾಟಕದಲ್ಲಿ ಪ್ರಸಿದ್ಧವಾದ ಐತಿಹಾಸಿಕ ಸ್ಮಾರಕ ಗೋಲ್ ಗುಂಬಜ್ ಇರುವುದು ಬಿಜಾಪುರದಲ್ಲಿ. ಬಿಜಾಪುರದ ಸುಲ್ತಾನ ಮಹಮ್ಮದ್ ಆದಿಲ್ ಷಾಹಿಯ ಕಾಲದಲ್ಲಿ ಈ ಭವ್ಯ ಕಟ್ಟಡದ ರಚನೆಯಾಯಿತು. 1626 ರಲ್ಲಿ ಅಧಿಕಾರಕ್ಕೆ ಬಂದ ಆದಿಲ್ ಷಾ ತನ್ನ ಹಾಗೂ ರಾಣಿಯ ಸಮಾಧಿ ಸ್ಥಾನವು ವಿಶ್ವದಲ್ಲಿಯೇ ಪ್ರಸಿದ್ಧವಾಗಬೇಕೆಂದು ಬಯಸಿ ಈ ಸ್ಮಾರಕವನ್ನು ನಿರ್ಮಿಸಿದನು. ಉತ್ತರ ಭಾರತದ ತಾಜ್ ಮಹಲಿನಂತೆಯೇ ದಕ್ಷಿಣ ಭಾರತದ ಗೋಲಗುಮ್ಮಟ ಪ್ರಸಿದ್ಧಿ ಪಡೆಯಿತು. ಏಳು ಅಂತಸ್ತಿನ ಗೋಪುರಗಳು ನಾಲ್ಕು ಮೂಲೆ ಬದಿಗೆ ಆಧಾರವಾಗಿವೆ. ನೆಲಮಾಳಿಗೆಯಲ್ಲಿ ಸುಲ್ತಾನ ಮಹಮ್ಮದ್ ಆದಿಲ್ ಷಾ ನ ಪರಿವಾರದ ಗೋರಿಗಳಿವೆ. ಗೋಲಗುಮ್ಮಟದ ವಿಶೇಷವಿರುವುದು ಅದರಲ್ಲಿನ ಪಿಸುಮಾತಿನ ಗ್ಯಾಲರಿ ಹಾಗೂ ಪ್ರತಿಧ್ವನಿಸುವ ವೈಶಿಷ್ಟ್ಯದಿಂದ. ಇಲ್ಲಿ ಒಂದು ಸಾರಿ ಜೋರಾಗಿ ಕೂಗಿದರೆ ಅದೇ ಧ್ವನಿ ೭ ಸಲ ಪ್ರತಿಧ್ವನಿಗೊಳ್ಳುತ್ತದೆ. ಬಹುಶಃ ವಿಶ್ವದ ಯಾವುದೇ ಕಟ್ಟಡದಲ್ಲಿಯೂ ಈ ವಿಶೇಷತೆಯನ್ನು ಕಾಣಲು ಸಾಧ್ಯವಿಲ್ಲ. ಅದೇ ರೀತಿ ಪಿಸುಮಾತಿನ ಗ್ಯಾಲರಿಯಲ್ಲಿ ಗೋಡೆಯ ಒಂದು ಕಡೆ ನಿಂತು ಮೆಲ್ಲಗೆ ಮಾತನಾಡಿದರೆ, ದೂರದಲ್ಲಿ ಅದೇ ಗೋಡೆಯ ಇನ್ನೊಂದು ಕಡೆ ಕಿವಿಗೊಟ್ಟು ನಿಂತ ವ್ಯಕ್ತಿಗೆ ಆ ಮಾತು ಅತ್ಯಂತ ಸ್ಪಷ್ಟವಾಗಿ ಕೇಳಿಸುತ್ತದೆ. ಉತ್ತರ ಭಾರತದ ರೈಲ್ವೆ ನಿಲ್ದಾಣದ ಹತ್ತಿರದಲ್ಲಿರುವ ಈ ಕಟ್ಟಡವನ್ನು ಪುರಾತತ್ವ ಇಲಾಖೆಯವರು ನಿರ್ವಹಿಸುತ್ತಿದ್ದಾರೆ.

೧. ಗೋಲ್ ಗುಂಬಜ್ ಅನ್ನು ಕಟ್ಟಿಸಿದವರು _____

ಅ) ಬಾಬರ್ ಆ) ಮಹಮ್ಮದ್ ಆದಿಲ್ ಷಾ ಇ) ಟಿಪ್ಪುಸುಲ್ತಾನ್ ಈ) ಮಯೂರ

ಚಾಮರಾಜೇಂದ್ರ ಮೈಗಾಲಯ ಇದೆ. ನಗರಕ್ಕೆ ಹೊಂದಿಕೊಂಡಂತೆ ಚಾಮುಂಡಿ ಬೆಟ್ಟವಿದೆ.

ಮೈಸೂರು ನಗರವು ನಾನಾ ಬಗೆಯ ಉದ್ಯಮಗಳಿಗೂ ಹೆಸರಾಗಿದೆ. ಬಟ್ಟೆಗಳನ್ನು ತಯಾರಿಸುವ ಕೃಷ್ಣ ರಾಜೇಂದ್ರ ಬಟ್ಟೆ ಗಿರಣಿ ಇದೆ. ಭಾರತ್ ಅರ್ತ್ ಮೂವರ್ಸ್ ನಂತಹ ಹಿರಿಯ ಕೈಗಾರಿಕಾ ಕೇಂದ್ರಗಳಿವೆ. ರೇಷ್ಮೆ, ಕಾಗದ ಗಂಧದಕಡ್ಡಿ, ಗಂಧದ ಎಣ್ಣೆ, ಸಾಬೂನು ಇವೇ ಮುಂತಾದ ನೂರಾರು ಬಗೆಯ ವಸ್ತುಗಳನ್ನು ತಯಾರಿಸುವ ಉದ್ಯಮಗಳು ಇವೆ. ಇಲ್ಲಿಯ ಜನರು ತುಂಬಾ ಹೃದಯವಂತರು, ಸ್ನೇಹಪರರು, ಕಲಾಪ್ರೇಮಿಗಳು ಎಲ್ಲವೂ ಆಗಿದ್ದಾರೆ. ಒಟ್ಟಿನಲ್ಲಿ ಮೈಸೂರು ಒಂದು ಮಾದರಿ ನಗರವಾಗಿದೆ.

೧. ವಿಜಯದಶಮಿಯಂದು ನಡೆಯುವ ವೈಭವದ _____ ಮೆರವಣಿಗೆಯನ್ನು ಜನರು ನೋಡುತ್ತಾರೆ.

ಅ) ಜಂಬೂ ಸವಾರಿ ಆ) ನೃತ್ಯದ ಇ) ರಾಮೋತ್ಸವ ಈ) ಗಣಪತಿಯ

೨. ಈ ನಗರಕ್ಕೆ ಲೆಕ್ಕವಿಲ್ಲದಷ್ಟು _____ ಬಂದು ಹೋಗುತ್ತಾರೆ.

ಅ) ಚಳುವಳಿಗಾರರು ಆ) ಪ್ರವಾಸಿಗರು

ಇ) ಸೇನಾನಿಗಳು ಈ) ಸ್ವಾತಂತ್ರ್ಯ ಹೋರಾಟಗಾರರು

೩. ದಸರಾ ಉತ್ಸವದಿಂದಾಗಿ _____ ಅಂತರಾಷ್ಟ್ರೀಯ ಖ್ಯಾತಿಗಳಿಸಿದ ನಗರವಾಗಿದೆ.

ಅ) ಮೈಸೂರು ಆ) ಶಿವಮೊಗ್ಗ

ಇ) ಬೆಂಗಳೂರು ಈ) ಹುಬ್ಬಳ್ಳಿ

೪. ಮೈಸೂರಿನ ಅರಮನೆಯ ಹಿಂಭಾಗದಲ್ಲಿ _____ ಅರಮನೆ ಇದೆ.

ಅ) ಲಲಿತಮಹಲ್ ಆ) ಜಗನ್ಮೋಹನ

ಇ) ಕಮಲ ವಿಲಾಸ್ ಈ) ರಾಜೇಂದ್ರ ವಿಲಾಸ್

೫. ಭಾರತ್ ಅರ್ತ್ ಮೂವರ್ಸ್ ನಂತಹ ಹಿರಿಯ _____ ಕೇಂದ್ರಗಳಿವೆ.

ಅ) ಶಾಲಾ ಆ) ವಸತಿ ಇ) ಕೈಗಾರಿಕಾ ಈ) ಆರೋಗ್ಯ

೨. ಐತಿಹಾಸಿಕ ಸ್ಮಾರಕ ಗೋಲ್ಡ್ ಗುಂಬಜ್ ಈ ಊರಿನಲ್ಲಿದೆ.

ಅ) ಬಿಜಾಪುರ ಆ) ಶಿವಮೊಗ್ಗ ಇ) ಬೆಳಗಾವಿ ಈ) ಹುಬ್ಬಳ್ಳಿ

೩. ಉತ್ತರ ಭಾರತದ ಪ್ರಸಿದ್ಧ ಕಟ್ಟಡ ಯಾವುದು?

ಅ) ಸುತುಬ್ ಮಿನಾರ್ ಆ) ಗೋಮ್ಹಟೇಶ್ವರನ ವಿಗ್ರಹ
ಇ) ತಾಜ್ ಮಹಲ್ ಈ) ಕೊನಾರ್ಕ್ ದೇವಾಲಯ

೪. ಗೋಲ್ಡ್ ಗುಂಬಜ್ ನ ನಿರ್ವಹಣೆಯನ್ನು _____ ಇಲಾಖೆಯವರು ಮಾಡುತ್ತಾರೆ.

ಅ) ಪುರಾತತ್ವ ಆ) ಸಂಶೋಧನಾ ಇ) ಕಾಮಗಾರಿ ಈ) ರೈಲ್ವೆ

೫. ಗೋಲ್ಡ್ ಗುಂಬಜ್ ನಲ್ಲಿ ಒಂದು ಸಾರಿ ಕೂಗಿದರೆ _____ ಸಲ ಪ್ರತಿಧ್ವನಿಸುತ್ತದೆ.

ಅ) ೫ ಆ) ೭ ಇ) ೪ ಈ) ೮

|| ಕೆಳಗಿನ ಗದ್ಯಭಾಗವನ್ನು ಓದಿಕೊಂಡು, ಕೊಟ್ಟಿರುವ ಬಹು ಆಯ್ಕೆ ಪ್ರಶ್ನೆಗಳಿಗೆ ಉತ್ತರಿಸಿ. 1X5=5

ಮೈಸೂರು ಕರ್ನಾಟಕ ರಾಜ್ಯದ ಅತಿ ಸುಂದರವಾದ ನಗರ. ವರ್ಷ-ವರ್ಷವೂ ಇಲ್ಲಿ ನಡೆಯುವ ವೈಭವದ ದಸರಾ ಉತ್ಸವದಿಂದಾಗಿ ಇದು ಅಂತರಾಷ್ಟ್ರೀಯ ಖ್ಯಾತಿಗಳಿಸಿದ ಆಕರ್ಷಕ ನಗರವಾಗಿದೆ. ಅನೇಕ ಪ್ರೇಕ್ಷಣೀಯ ಸ್ಥಳಗಳನ್ನು ಹೊಂದಿರುವ ಈ ನಗರಕ್ಕೆ ಲೆಕ್ಕವಿಲ್ಲದಷ್ಟು ಪ್ರವಾಸಿಗರು ಬಂದು ಹೋಗುತ್ತಾರೆ. ವಿಜಯದಶಮಿಯಂದು ನಡೆಯುವ ವೈಭವದ ಜಂಬೂಸವಾರಿ ಮೆರವಣಿಗೆಯನ್ನು ರಸ್ತೆಯ ಇಕ್ಕಲಗಳಲ್ಲಿ ಜನರು ಕಾದು ನಿಂತು ಕುತೂಹಲದಿಂದ ನೋಡುತ್ತಾರೆ. ಮೈಸೂರಿನಲ್ಲಿ ಅಂದವಾದ ಅರಮನೆ ಇದೆ. ಅದರ ಹಿಂಭಾಗದಲ್ಲಿ ಜಗನ್ನೋಹನ ಅರಮನೆ ಇದೆ. ಚಾಮುಂಡಿ ಬೆಟ್ಟಕ್ಕೆ ಹೋಗುವ ಮಾರ್ಗದಲ್ಲಿ ನೂರಾರು ಬಗೆಯ ಪ್ರಾಣಿ-ಪಕ್ಷಿಗಳಿಂದ ಕೂಡಿದ

೧. ನಾರದಗಡ್ಡೆಯಲ್ಲಿ ಯಾವ ದೇವಾಲವಿದೆ?

೨. ಮಕ್ಕಳಿಗೆ ಯಾವ ಕೂಗು ಕೇಳಿಸಿತು?

೩. ಸೂರ್ಯನ ಹೊಂಬಣ್ಣದ ಕಿರಣಗಳು ಎಲ್ಲಿ ಬಿದ್ದಿವೆ?

೪. ನಾರದ ಗಡ್ಡೆಯು ಯಾವ ನದಿಯಲ್ಲಿದೆ?

೫. ಹಕ್ಕಿಗಳ ಕಲರವ ಹೇಗಿತ್ತು?

IV ಈ ಕೆಳಗೆ ಕೊಟ್ಟಿರುವ 'ನನ್ನ ದೇಶ ನನ್ನ ಜನ' ಪದ್ಯವನ್ನು ಓದಿಕೊಂಡು ಅದರ ಕೆಳಗೆ ಕೊಟ್ಟಿರುವ ಪ್ರಶ್ನೆಗಳಿಗೆ ಉತ್ತರವನ್ನು ಬರೆಯಿರಿ.

1X5=5

ನನ್ನ ದೇಶ ನನ್ನ ಜನ

ನನ್ನ ಮಾನ ಪ್ರಾಣ ಘನ

ತೀರಿಸುವೆನೆ ಅದರ ಋಣ

ಈ ಒಂದೇ ಜನ್ಮದಿ?

ಕೆಂಪು ನೆಲದ ಹಸಿರು ಬೆಳೆ

ಕಪ್ಪು ಬಣ್ಣ ಮೊಗದ ಕಳೆ

ಸೂರ್ಯ ಚಂದ್ರ ಚುಕ್ಕಿಗಳೆ

ನಮ್ಮ ಹಿರಿಯ ಒಕ್ಕಲು

ನೂರು ಭಾವ ಭಾಷೆ ನೆಲೆ

ನೂರು ಬಣ್ಣ ವೇಷ ಕಲೆ

ಸ್ವಚ್ಛಂದದ ಹಕ್ಕಿಗಳೆ

ನಮ್ಮ ಹಾಡು ಬದುಕಲು

ಪ್ರಾಚೀನವ ತಿಕ್ಕಿ ತೊಳೆ

ವರ್ತಮಾನ ಜೀವಕಳೆ

ಉಕ್ಕೇರಲಿ ಬಾಳ ಹೊಳೆ

ಆ ಭವಿಷ್ಯದೊಡಲಿಗೆ

III ಈ ಕೆಳಗೆ ಕೊಟ್ಟಿರುವ 'ಕೂಗುತಿದೆ ಪಕ್ಷಿ' ಗದ್ಯವನ್ನು ಓದಿಕೊಂಡು
ಅದರ ಕೆಳಗೆ ಕೊಟ್ಟಿರುವ ಪ್ರಶ್ನೆಗಳಿಗೆ ಉತ್ತರಿಸಿ. 1X5=5

ಕೃಷ್ಣ ಮೈದುಂಬಿ ಹರಿಯುತ್ತಿದ್ದಾಳೆ. ಅವಳ ಬೋರ್ಗರತ, ತೂರಾಟ, ಚೆಲ್ಲಾಟ, ಹರಿಯುವ ಓಟ ನಯನ ಮನೋಹರ. ಬೆಳ್ಳನೆಯ ನೊರೆ ಬಲು ಚೆಂದ. ಸುಳಿಗಳಲ್ಲಿ ಸುತ್ತುವ ನೀರಿನ ಸೊಬಗೇ ಸೊಬಗು. ಬೆಳಗಿನ ಎಳೆ ಬಿಸಿಲಿನ ಹೊಳಪಿಗೆ ಮಿನಮಿನ ಮಿರುಗುವ ನದಿ ಬಲು ಅಂದ. ಸೂರ್ಯನ ಹೊಂಬಣ್ಣದ ಕಿರಣಗಳು ನದಿಯ ಮೇಲೆ ಬಿದ್ದಿವೆ. ಅಲ್ಲಿ ಹನಿ ಹನಿಗೂ ಮುತ್ತಿನ ಮಣಿಯ ರೂಪು. ಅಬ್ಬಬ್ಬಾ! ಅದೆಷ್ಟು ಸುಂದರ.

ಈ ಕೃಷ್ಣಾ ನದಿಯಲ್ಲಿ ಹಲವಾರು ನಡುಗಡ್ಡೆಗಳಿವೆ. ಅವುಗಳಲ್ಲಿ ಸುಂದರವಾದ ಗಡ್ಡೆ 'ನಾರದ ಗಡ್ಡೆ'. ಅದು ರಾಯಚೂರು ಸಮೀಪವಿದೆ. ಬಹಳ ಹಿಂದೆ ಇಲ್ಲಿ ನಾರದ ಮುನಿ ತಪಸ್ಸು ಮಾಡಿದ್ದರೆಂಬ ಪ್ರತೀತಿ. ಇಲ್ಲೊಂದು ಶಿವ ದೇವಾಲಯವು ಇದೆ. ಸದಾ ಹಚ್ಚಹಸುರಿನಿಂದ ಕೂಡಿ, ಗಿಡ ಮರಗಳಿಂದ ಕಂಗೊಳಿಸುತ್ತಿದೆ. ಈ ನಡುಗಡ್ಡೆ ಪ್ರವಾಸಿ ತಾಣವೂ ಹೌದು. ಈ ಸುಂದರ ತಾಣವನ್ನು ನೋಡಲು ಮಕ್ಕಳು ಪ್ರವಾಸ ಹೊರಟಿದ್ದರು.

ಕುಹೂ ಕುಹೂ ಹಕ್ಕಿಗಳ ಕಲರವ ಕಿವಿಗೆ ಇಂಪಾಗಿತ್ತು. ಮನಕೆ ತಂಪೆರೆಯುತ್ತಿತ್ತು. ಚಿಲಿಪಿಲಿ ಹಕ್ಕಿಗಳ ಇಂಚರ ಸಂಗೀತಮಯ. ಮಕ್ಕಳು ಈ ಸುಂದರ ತಾಣದ ಸವಿ ಉಣ್ಣುತ್ತಿದ್ದರು. ಇದ್ದಕ್ಕಿದ್ದಂತೆ ಹಕ್ಕಿಯೊಂದರ ನೋವಿನ ಕೂಗು ಕೇಳಿಸಿತು. ಅತ್ತ ತಿರುಗಿ ನೋಡಿದಾಗ ಅನೇಕ ಟೊಂಗೆಗಳನ್ನು ಹರಡಿಕೊಂಡಿರುವ ಬೋಳು ಮರ. ಎಲೆಗಳಿಲ್ಲದ, ಹೂಗಳಿಲ್ಲದ, ಹಣ್ಣು ಕಾಯಿಗಳಿಲ್ಲದ ಒಣಗುತ್ತಿರುವ ಮರ. ಅದರೊಳಗೆ ಕುಳಿತ ಪಕ್ಷಿಯೊಂದು ನೋವಿನಿಂದ ಕೂಗುತ್ತಿತ್ತು. ಮಕ್ಕಳು ಕುತೂಹಲದಿಂದ ಆ ಮರದ ಬಳಿ ತೆರಳಿದರು.

ಪ್ರಶ್ನೆಗಳು:

ಪ್ರಶ್ನೆಗಳು:

೧. ಯಾವ ನೆಲದಲ್ಲಿ ಹಸಿರು ಬೆಳೆಯನ್ನು ಬೆಳೆಯುತ್ತಾರೆ?
೨. ಭವಿಷ್ಯದೊಡಲಿಗೆ ಉಕ್ಕೇರುವುದು ಯಾವುದು?
೩. ಸೂರ್ಯ, ಚಂದ್ರ, ಚುಕ್ಕಿಗಳನ್ನು ಕವಿ ಏನೆಂದು ಕರೆಯುವರು?
೪. ಕವಿ ಯಾರ ಋಣವನ್ನು ತೀರಿಸುವೆನೆಂದು ಹೇಳಿದ್ದಾರೆ?
೫. ಕವಿ ಕಣವಿಯವರು ನಮ್ಮ ದೇಶದ ಜನರನ್ನು ಏನೆಂದು ಕರೆದಿದ್ದಾರೆ?

SECTION - B

(ಅನ್ವಯಿಕ ವ್ಯಾಕರಣ ಮತ್ತು ಪಠ್ಯಪೂರಕ ಅಧ್ಯಯನ -20 ಅಂಕಗಳು)

V ಕೆಳಗಿನ ಪ್ರತಿಯೊಂದು ಪ್ರಶ್ನೆಗೆ ನಾಲ್ಕು ಉತ್ತರಗಳನ್ನು ಕೊಡಲಾಗಿದೆ.
ಅವುಗಳಲ್ಲಿ ಸರಿಯಾದ ಉತ್ತರವನ್ನು ಆರಿಸಿ ಬರೆಯಿರಿ. 1X10=10

೧. 'ಒಕ್ಕಲು' ಈ ಪದದ ಸಮಾನಾರ್ಥಕ ಪದ _____

ಅ) ಮೀನುಗಾರಿಕೆ ಆ) ಬೇಸಾಯ ಇ) ಪಶುಸಂಗೋಪನೆ ಈ) ಹೈನುಗಾರಿಕೆ

೨. 'ಉಳಿವು' ಈ ಪದದ ವಿರುದ್ಧ ಪದ

ಅ) ಆಳಿವು ಆ) ಅಲಿವು ಇ) ಅಳಿವು ಈ) ಇಳಿವು

೩. 'ಅವರಲ್ಲೊಬ್ಬ' ಈ ಪದವನ್ನು ಬಿಡಿಸಿ ಬರೆದಾಗ ಹೀಗೆ ಬರೆಯುತ್ತೇವೆ.

ಅ) ಅವರ+ಒಬ್ಬ ಆ) ಅವರಲ+ಒಬ್ಬ

ಇ) ಅವರಲ್ಲಿ+ಒಬ್ಬ ಈ) ಅವರಲ್ಲ+ಒಬ್ಬ

೪. ಶಾಮನು ಶಿಕ್ಷಕರಿಂದ ಸಹಾಯ ಪಡೆದನು. ಗೆರೆ ಎಳೆದ ಪದದಲ್ಲಿರುವ ವಿಭಕ್ತಿ ಪ್ರತ್ಯಯ.

ಅ) ದ್ವಿತೀಯ ಆ) ಚತುರ್ಥಿ ಇ) ಪಂಚಮಿ ಈ) ತೃತೀಯಾ

೫. ಗೀತಾಳು ದೇವರಿಗೆ ಹೂಮಾಲೆಯನ್ನು ಕಟ್ಟಿದಳು. ಈ ವಾಕ್ಯದಲ್ಲಿರುವ ಕ್ರಿಯಾಪದವನ್ನು ಗುರುತಿಸಿ.

ಅ) ದೇವರಿಗೆ ಆ) ಹೂಮಾಲೆಯನ್ನು ಇ) ಕಟ್ಟಿದಳು ಈ) ಗೀತಾಳು

೬. ಪಾತ್ರೆಯು ಫಲಫಲನೆ ಹೊಳೆಯುತ್ತಿತ್ತು. ಗೆರೆ ಎಳೆದ ಪದವು ಈ ವ್ಯಾಕರಣಾಂಶವಾಗಿದೆ.

ಅ) ಅನುಕರಣಾವ್ಯಯ ಆ) ದ್ವಿರುಕ್ತಿ ಇ) ಜೋಡಿಪದ ಈ) ನುಡಿಗಟ್ಟು

೭. ಕುಂಟ, ವ್ಯಾಪಾರಿ : ಅನ್ವರ್ಥನಾಮ :: ನದಿ, ಪರ್ವತ : _____

ಅ) ಅಂಕಿತನಾಮ ಆ) ರೂಢನಾಮ ಇ) ಸರ್ವನಾಮ ಈ) ಗುಣವಾಚಕ

೮. ಅವನಿಗೆ ಪುಸ್ತಕವನ್ನು ಕೊಡುವುದು ಬೇಡವೇ - ಈ ವಾಕ್ಯಕ್ಕೆ ಬಳಸಬೇಕಾದ ಸರಿಯಾದ ಲೇಖನ ಚಿಹ್ನೆ.

ಅ) ಪೂರ್ಣವಿರಾಮ (.)

ಆ) ಅಲ್ಪವಿರಾಮ (,)

ಇ) ಆಶ್ಚರ್ಯ ಚಿಹ್ನೆ (!)

ಈ) ಪ್ರಶ್ನಾರ್ಥಕ ಚಿಹ್ನೆ (?)

೯. 'ಹೊಳೆ' ಈ ಪದದ ನಾನಾರ್ಥಕ ಪದ

ಅ) ಪ್ರಕಾಶಿಸು- ನದಿ

ಆ) ಕಾಂತಿ-ಬೇಡವಾದ ಸಸ್ಯ

ಇ) ಅಲೆ - ತೆಗೆಯುವುದು

ಈ) ಬೇಟೆಗಾರ - ತಿರಸ್ಕಾರ

೧೦. 'ಹುರಿಗಡಲೆ' ಪದವು ಈ ಸಂಧಿಗೆ ಉದಾಹರಣೆಯಾಗಿದೆ.

ಅ) ಲೋಪ ಸಂಧಿ

ಆ) ಆಗಮ ಸಂಧಿ

ಇ) ಆದೇಶ ಸಂಧಿ

ಈ) ಯಕಾರಾಗಮ ಸಂಧಿ

VI ಕೆಳಗಿನವುಗಳನ್ನು ಸೂಚನೆಯಂತೆ ಬರೆಯಿರಿ.

1X5=5

೧. ಈ ಕೆಳಗಿನ ಗಾದೆಯ ಮಾತಿನ ಅರ್ಥವನ್ನು ಬರೆಯಿರಿ.

ಅ) ಉಪ್ಪು ತಿಂದವ ನೀರು ಕುಡಿಯಲೇಬೇಕು.

೨. 'ವಿದಾಯ' - ಈ ಪದವನ್ನು ಬಳಸಿ ಸ್ವಂತ ವಾಕ್ಯದಲ್ಲಿ ಬರೆಯಿರಿ.

೩. ವ್ಯಾಪಾರಿಯು ಹಣ್ಣನ್ನು ಮಾರುತ್ತಾನೆ. (ಈ ವಾಕ್ಯವನ್ನು ಭವಿಷ್ಯತ್ ಕಾಲದಲ್ಲಿ ಬರೆಯಿರಿ)

೪. ಅವಳು ಆಟದಲ್ಲಿ ಗೆದ್ದು ಬಹುಮಾನವನ್ನು ಪಡೆದಳು. (ಈ ವಾಕ್ಯವನ್ನು ಅನ್ಯಲಿಂಗಕ್ಕೆ ಬದಲಿಸಿ ಬರೆಯಿರಿ)

೫. ನಾವು ಚಿಕ್ಕಮಗಳೂರಿಗೆ ಹೋಗುತ್ತೇವೆ. (ಈ ವಾಕ್ಯವನ್ನು ಏಕವಚನಕ್ಕೆ ಬದಲಿಸಿ ಬರೆಯಿರಿ)

VII ಕೆಳಗಿನ ಪ್ರತಿಯೊಂದು ಪ್ರಶ್ನೆಗಳಿಗೆ ನಾಲ್ಕು ಉತ್ತರಗಳನ್ನು ಕೊಡಲಾಗಿದೆ ಅವುಗಳಲ್ಲಿ ಸರಿಯಾದ ಪದವನ್ನು ಆರಿಸಿ ಬರೆಯಿರಿ.

1X5=5

೧. ಗೊಮ್ಮಟೇಶ್ವರನ ವಿಗ್ರಹ ಕೆತ್ತಿಸಿದವರು _____

ಅ) ಮಯೂರವರ್ಮ ಆ) ಚಾವುಂಡರಾಯ

ಇ) ಕೃಷ್ಣರಾಜ ಒಡೆಯರ್ ಈ) ಟಿಪ್ಪು ಸುಲ್ತಾನ್

೨. ಪುಣ್ಯಕೋಟಿ ಕಥೆಯಲ್ಲಿ ಬರುವ ಹುಲಿಯ ಹೆಸರು

ಅ) ಅರ್ಜುನ ಆ) ಹನುಮ ಇ) ಭೀಮ ಈ) ಸಿಂಬ

೩. ನಾನು ನನ್ನ ಗೆಳತಿಯರು ಅಪರೂಪದ _____ ಕೊಂಡುಕೊಂಡೆವು.

ಅ) ಗೊಂಬೆಗಳನ್ನು ಆ) ಕಲಾಕೃತಿಗಳನ್ನು

ಇ) ಆಟದ ಸಾಮಾನು ಈ) ಸಿಹಿತಿಂಡಿ

೪. ಪುಣ್ಯಕೋಟಿಯು ತಾನು ಹುಲಿಗೆ ಆಹಾರವಾಗಿ ಹೋಗುವ ವಿಚಾರವನ್ನು ತನ್ನ _____ ತಿಳಿಸಿತು.

ಅ) ಇತರ ಹಸುವಿಗೆ ಆ) ರೈತನಿಗೆ

ಇ) ಜನರಿಗೆ ಈ) ಕರುವಿಗೆ

೫. ಶ್ರವಣಬೆಳಗೊಳದ ಗೊಮ್ಮಟೇಶ್ವರನ ವಿಗ್ರಹವು _____ ಅಡಿಗಳಷ್ಟು ಎತ್ತರದಲ್ಲಿದೆ.

ಅ) ೪೯

ಆ) ೫೮

ಇ) ೫೦

ಈ) ೪೫

ಭಾಗ- B 40 ಅಂಕಗಳು

SECTION -C

(ಬರವಣಿಗೆ ಕೌಶಲ್ಯ - 12 ಅಂಕಗಳು)

VIII ನಿಮ್ಮ ಹುಟ್ಟುಹಬ್ಬಕ್ಕೆ ಆಹ್ವಾನಿಸಿ ಗೆಲೆಯ / ಗೆಲತಿಗೊಂದು (4)
ಪತ್ರ ಬರೆಯಿರಿ.

IX ಕೊಟ್ಟಿರುವ ಸುಲಿವು ಪದಗಳ ಸಹಾಯದಿಂದ ವಿಷಯವನ್ನು
ಪೂರ್ಣಗೊಳಿಸಿ.

$\frac{1}{2} \times 8 = 4$

(ಸುಲಿವುಪದ - ಪ್ರೇಮಿಗಳಲ್ಲ, ಸಂರಕ್ಷಣೆಗಾಗಿ, ಆಹಾರ, ಮರಗಿಡಗಳನ್ನು,
ಗಾಳಿಯಿರದಿದ್ದರೆ, ಮಾಗಡಿಗಿ, ಪ್ರಶಸ್ತಿ- ಪುರಸ್ಕಾರಗಳು, ಸಾಲುಮರದ ತಿಮ್ಮಕ್ಕೆ)

ಯಾವುದೇ ಜೀವ ಸಂಕುಲ ಜೀವಿಸಲು ಅತಿಮುಖ್ಯವಾಗಿ ಗಾಳಿ, ನೀರು _____

ಬೇಕೇ ಬೇಕು. ಉಸಿರಾಡಲು _____ ಜೀವ ಸಂಕುಲ ಸಾಯುತ್ತವೆ. ಈ

ಗಾಳಿ ಸದಾಕಾಲ ನಮಗೆ ದೊರೆಯಬೇಕೆಂದರೆ ನಾವು _____

ಕಾಪಾಡಬೇಕು. ಈ ನಿಟ್ಟಿನಲ್ಲಿ ಪರಿಸರ _____ ಅನೇಕ ಕೆಲಸಗಳನ್ನು

ಮಾಡುತ್ತಿದ್ದಾರೆ. ಮರಗಿಡಗಳ _____ ಹೋರಾಡುತ್ತಿದ್ದಾರೆ. ನಮ್ಮ

ಕರ್ನಾಟಕದಲ್ಲಿ ಅಗ್ರಗಣ್ಯವಾಗಿ ಮರ-ಗಿಡಗಳ ಆರೈಕೆಯಲ್ಲಿ ಮೊದಲ ಹೆಸರು

ಕೇಳಿ ಬರುವುದು _____ ನವರದು. ಅವರು ತಮ್ಮ ಜೀವನದ ಹೆಚ್ಚು

ಕಾಲವನ್ನು ಅವರ ಊರಾದ _____ ಹೋಗುವಾಗ ಸಿಗುವ ರಸ್ತೆಯ

ಎರಡೂ ಬದಿಗಳಲ್ಲಿ ಆಲದ ಮರಗಳನ್ನು ನೆಟ್ಟು, ಬೆಳೆಸುವುದರಲ್ಲೇ ಕಳೆದರು.

ಅವರ ಈ ಸಾಧನೆಗೆ ಮೆಚ್ಚಿ ಕರ್ನಾಟಕ ಸರ್ಕಾರ, ಭಾರತ ಹಾಗೂ ಪ್ರಪಂಚದ

ವಿವಿಧ ದೇಶಗಳಿಂದ ಅವರಿಗೆ _____ ಕೂಡ ದೊರೆತಿವೆ.

X ಕೆಳಗೆ ಕೊಟ್ಟಿರುವ ಯಾವುದಾದರೂ ಒಂದು ವಿಷಯವನ್ನು ಕುರಿತು

೮-೧೦ ವಾಕ್ಯಗಳಲ್ಲಿ ಪ್ರಬಂಧವನ್ನು ಬರೆಯಿರಿ

1X4=4

೧. ನಿಮ್ಮ ನೆಚ್ಚಿನ ಹಬ್ಬ

೨. ನೀರಿನ ಮಹತ್ವ

೩. ಶಾಲೆಯಲ್ಲಿ ಶಿಸ್ತಿನ ಪರಿಪಾಲನೆ

SECTION -D

(ಪಠ್ಯಗಳ ಅಧ್ಯಯನ - 28 ಅಂಕಗಳು)

XI ಈ ಪ್ರಶ್ನೆಗಳಿಗೆ ಒಂದು ವಾಕ್ಯದಲ್ಲಿ ಉತ್ತರಿಸಿ.

1X4=4

೧. ತೋಳ ಬಂತು ತೋಳ ಕಥೆಯ ನೀತಿ ಏನು?

೨. ವಿಜ್ಞಾನವು ಯಾವುದನ್ನು ಗೆಲ್ಲುವ ಹಾಡಾಗಿದೆ?

೩. ಮಕ್ಕಳು ಮಾಡಿದ ಸತ್ಕಾರ್ಯವನ್ನು ಪಕ್ಷಿಗಳು ಹೇಗೆ ಮೆಚ್ಚಿಕೊಂಡವು?

೪. ರಾಜಕುಮಾರರು ಅಧ್ಯಾಪಕರನ್ನು ಕಂಡರೆ ಹೇಗೆ ವರ್ತಿಸುತ್ತಿದ್ದರು?

XII ಕೆಳಗಿನ ಪ್ರಶ್ನೆಗಳಿಗೆ ಎರಡು ಅಥವಾ ಮೂರು ವಾಕ್ಯದಲ್ಲಿ

ಉತ್ತರಿಸಿ.

2X5=10

೧. ಗಣೇಶನು ಪಕ್ಷಿಯನ್ನು ಏನೆಂದು ಪ್ರಶ್ನಿಸಿದನು?

೨. ನಮ್ಮೂರ ಕೆರೆ ಪದ್ಯದಲ್ಲಿ ಕವಿ ಕೆರೆಯ ದಾರಿಯನ್ನು ಯಾವ ರೀತಿ ವರ್ಣಿಸಿದ್ದಾರೆ?

೩. ವಿಷ್ಣುಶರ್ಮನು ರಾಜಕುಮಾರರಿಗೆ ಪಾಠ ಹೇಳಿಕೊಡುತ್ತಿದ್ದ ಸ್ಥಳ ಯಾವ ರೀತಿ ಇತ್ತು?

೪. ಈ ನಾಡಿನ ಹೃದಯವು ಯಾರ ಸನ್ನಿಧಾನವಾಗಿವೆ? ಹಾಗೂ ಯಾವ ಸ್ಥಳಗಳು ಕಲೆಯ ಆಗರಗಳಾಗಿವೆ?

೫. ಜನರು ಕುರಿ ಕಾಯುವ ಹುಡುಗನಿಗೆ ಏಕೆ ಧೈರ್ಯ ಹೇಳಿದರು?

XIII ಯಾರು ಯಾರಿಗೆ ಯಾವಾಗ ಹೇಳಿದರು?

2X3=6

೧. 'ಈ ಮರದ ಮೇಲೆ ಅಷ್ಟೊಂದು ಪ್ರೀತಿಯೇ?'

೨. 'ಎಲೆ ಮಾತನಾಡುವ ಗುಹೆಯೇ, ನಿನಗೇನಾಗಿದೆ?'

XIV ಈ ಪ್ರಶ್ನೆಗಳಿಗೆ 5-6 ವಾಕ್ಯಗಳಲ್ಲಿ ಉತ್ತರಿಸಿ.

4X2=8

೧. ಕರೆಯ ನೀರು ಹಾಗೂ ಮೀನು ಯಾವ ರೀತಿ ಹೊಳೆಯುತ್ತಿದ್ದವು? ಕರೆಯ ಉಳಿವಿಗೆ ಊರ ಜನರು ಕೈಗೊಂಡ ಕ್ರಮಗಳು ಯಾವುವು?

೨. ರಾಜನು ವಿದ್ಯಾಂಸರ ಸಭೆಯನ್ನು ಏಕೆ ಕರೆದನು? ಹಾಗೂ ವಿಷ್ಣುಶರ್ಮನ ಕಥೆಗಳಲ್ಲಿ ಬರುವ ಪಂಚತಂತ್ರದ ವಿಚಾರಗಳಾವುವು?



SINDHI HIGH SCHOOL - BENGALURU
HALF YEARLY EXAMINATION - 2023-24
III LANGUAGE SAMSKRUTAM

NAME- _____

DATE 10/10 / 2023

MARKS – 30

CLASS 6ABCD

TIME -1Hours

No of printed sides - 4

Reading time: 8-00 to 8-10am

Writing time: 8-10 to 9-10am

I. रिक्तस्थानानि पूरयत -

($\frac{1}{2} \times 8 = 4$)

अ आ _____ ई उ _____ ऋ ॠ लृ ए _____ ओ औ

च _____ ज झ _____

त _____ द _____ न

II. वर्णानां गुणिताक्षराणि लिखत -

($2 \times 2 = 4$)

भ _____

त्र _____

III. वर्णानां विभजनं कुरुत -

(1x4=4)

१. अक्षरम् - _____

२. श्रीरामः - _____

३. पुस्तकालयः - _____

४. कलिका - _____

IV वर्णसंयोजनम् कुरुत -

(1x4=4)

१. म्+ऊ+ल्+अ+क्+अ+म् _____

२. स्+अं+स्+क्+ऋ+त्+अ+म् _____

३. न्+आ+र्+इ+क्+ए+ल्+अ+म् _____

४. ग्+अ+ज्+अः _____

V. मेलनम् कुरुत -

($\frac{1}{2} \times 4 = 2$)

१. तौ महिला उत्तरम् - _____

२. सः कन्याः उत्तरम् - _____

३. ताः बालौ उत्तरम् - _____

४. सा भुजः उत्तरम् - _____

VI. पुल्लिङ्ग - स्त्रीलिङ्ग - नपुंसकलिङ्गपदानि पृथक् पृथक् कुरुत- ($\frac{1}{2} \times 8 = 4$)

(दीपः, वातायनम्, इनः, शाटिका, बालिका, आलुकम्, वीणा, चन्द्रः)

पुल्लिङ्गम्	स्त्रीलिङ्गम्	नपुंसकलिङ्गम्

VII. चतुर्थपदम् लिखत -

($1 \times 4 = 4$)

१. यूर - अवर्गीयव्यञ्जनानि :: क, ग = _____

२ शौ - म्-औ :: सु = _____

३ निष्ठा - साकानि - जप्यपुष्पम् :: = _____

४ स्वरा - ए३ :: वर्गीयव्यञ्जनानि = _____

VIII. चित्रं दृष्ट्वा लघुवाक्यम् एकं लिखत -

(1x4=4)









***** शुभमस्तु *****



**SINDHI HIGH SCHOOL,
HALF YEARLY EXAMINATION [2023-24]
SUBJECT: SCIENCE**

Class: VI

Date: 4.10.2023

No. of sides: 6

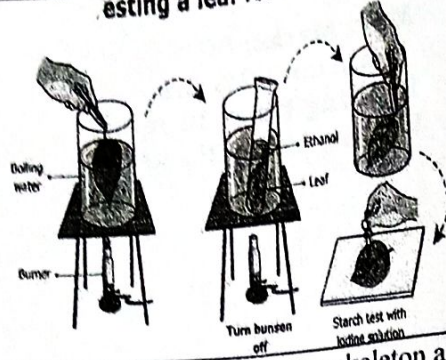


GENERAL INSTRUCTIONS:

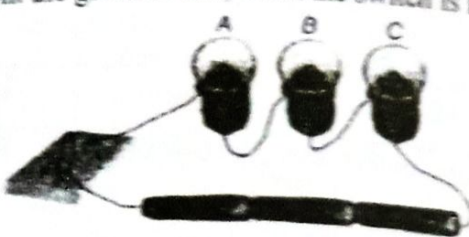
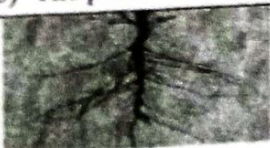
**Max. Marks: 80
Duration : 2½ hrs
Reading time: 15 mins
Writing time: 2½ hrs**

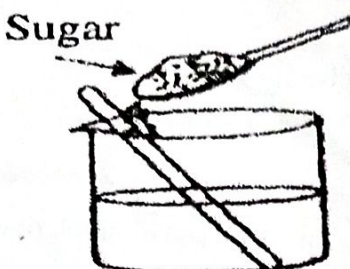

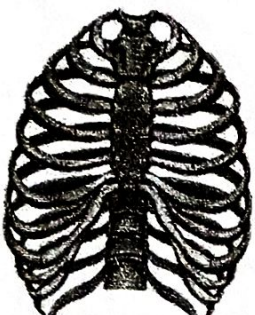
This Question Paper has 5 Sections A-E.

1. This question paper consists of 39 questions in 5 sections.
2. All questions are compulsory.
3. **Section A** consists of 20 objective type questions carrying 1 mark each.
4. **Section B** consists of 6 Very Short questions carrying 02 marks each. Answers to these questions should be in the range of 30 to 50 words.
5. **Section C** consists of 7 Short Answer type questions carrying 03 marks each. Answers to these questions should be in the range of 50 to 80 words.
6. **Section D** consists of 3 Long Answer type questions carrying 05 marks each. Answer to these questions should be in the range of 80 to 120 words.
7. **Section E** consists of 3 source-based/case-based units of assessment of 04 marks each with sub-parts.

SECTION A		
Q. NO	Section A consists of 20 questions of 1 mark each.	MARKS
1.	Some shining materials lose their shine and appear dull in due course of time. Which one of the following is not a reason for the dullness over the surface of the metal? a) Materials react with nitrogen in air to form a layer over it. b) Materials have a layer formed due to the action of air and moisture on them. c) Materials react with oxygen to form a layer over it. d) Materials have a layer formed by the action of water vapour in air.	1
2.	Identify the material used to cut glass and grind rocks a) Steel b) Aluminium c) Diamond d) Iron	1
3.	We should not sleep under a tree at night because a) Oxygen is released by plants at night. b) Carbondioxide is released by plants at night. c) Nitrogen is released by plants at night. d) Leaves and branches might fall on us at night.	1
4.	“Food gets cooked well in <u>copper</u> vessels.” The property associated with the underlined material is a) Texture b) Solubility c) Appearance d) Conduction of heat	1
5.	Plants like Creepers have i) weak stems that cannot stand upright and spread on the ground. ii) weak stems that cannot stand upright and cannot climb. iii) heavy fruits. iv) light fruits. a) ii, iii b) i, iii c) ii, iv d) i, iv	1

6.	Identify the animal that eats its way through the soil a) Flat worm b) Earth worm c) Centipede d) Round worm	1
7.	<p>Testing a leaf for starch</p>  <p>When iodine solution is added to the leaf as a part of the starch test, the colour observed in the leaf is a) Black b) White c) Blue d) Bluish black</p>	1
8.	The animal that drags its outer skeleton along with it is. a) Cockroach b) Octopus c) Snail d) Starfish	1
9.	The longest and strongest bone of the body is a) Calf bone b) Thigh bone c) Upper arm bone d) Shin bone	1
10.	The small bead like structures present in the swollen part of the pistil is  a) ovule b) pollen c) style d) stigma	1
11.	The feature that does not help the cockroach to move are a) Ribs, muscles and loops help move forward. b) Two pairs of wings attached to the thorax help fly short distances. c) Hard outer skeleton with number of plates permits movement. d) Three pairs of jointed legs helps in walking and running.	1
12.	<p style="text-align: center;">A B</p>  <p>In the above pictures A and B, there are two snakes of the same size slithering on the sand. Can you identify the snake that would move faster and why? a) Snake B, the large loop pushes it to move forward faster. b) Snake A, more number of loops pushes it to move faster. c) Snake B, less number of loops pushes it to move faster. d) Snake A, the small loop pushes it to move forward faster.</p>	1
13.	Select the correct form to express the value of measurement a) Only physical quantity b) only unit c) chemical quantity and unit d) physical quantity and unit	1
14.	The SI unit of length and mass is a) meter and kilogram b) hour and kilogram c) meter and litre d) kilometre and gram	1

15.	<p>In the given circuit, when the switch is moved to ON position, then</p>  <p>a) the bulb A will glow first b) the bulb B will glow first c) the bulb C will glow first d) all bulbs will glow together</p>	1
16.	<p>A fused bulb does not glow because</p> <p>a) the circuit is complete and therefore, current doesn't flow through it. b) there is no power, therefore, current doesn't flow through it. c) the filament is broken and the circuit is incomplete, therefore, current doesn't flow through it. d) the connections are incorrect, therefore, current doesn't flow through it.</p>	1
<p>Assertion Reason based question:</p> <p>In the following questions a statement of assertion (A) is followed by a statement of Reason(R). Choose the correct option.</p> <p>a) Both A and R are true, and R is the correct explanation of A. b) Both A and R are true, and R is not the correct explanation of A. c) A is true but R is false. d) A is false but R is true.</p>		
17.	<p>Assertion: Grouping of substances based on their similarities and dissimilarities is called classification.</p> <p>Reason: Classification makes study of objects simple, easy and systematic.</p>	1
18.	<p>Assertion: A measuring tape or thread is used to measure a curved line.</p> <p>Reason: A curved line or surface can be measured by a straight scale.</p>	1
19.	<p>Assertion: Two muscles work together to make a bone move.</p> <p>Reason: A muscle can only pull, it cannot push.</p>	1
20.	<p>Assertion: The application of switches is to light electric bulbs and other devices.</p> <p>Reason: Switch is a simple device that either breaks the circuit or completes it.</p>	1
<p>SECTION B</p>		
<p>Section B consists of 6 questions of 2 marks each.</p>		
21.	<p>a) Give one example each of a material that will float and sink in water. b) What will happen to honey if it is dropped in water?</p>	2
22.	<p>Correct the statements given below and rewrite them.</p> <p>a) Leaves absorb water and minerals from the soil. b) The plants lose out excess water through the stomata present in the stem.</p>	2
23.	 <p>a) Identify the type of root shown in the given picture. b) Mention the type of leaf venation found in these plants. c) Name any two plants with these type of roots and leaves.</p>	2

24.	Four friends measured the length of a field. All of them got different results. List any two reasons for such variation in the results.	2
25.	Mention the importance of conductors and insulators with a suitable example.	2
26.	With an example list any two adaptations seen in organisms that move through air.	2
SECTION C		
Section C consists of 7 questions of 3 marks each.		
27.	Give reasons for the following a) Mountaineers carry oxygen cylinders while they climb mountains. b) We must always breathe through our nose rather than our mouth. c) Volume of water doesn't increase when salt is added to water.	3
28.	Study the figures given below and answer the following questions: <div style="display: flex; justify-content: space-around; align-items: center;"> <div style="text-align: center;"> <p>A</p>  <p>Sugar</p> </div> <div style="text-align: center;"> <p>B</p>  <p>Fine sand</p> </div> </div> a) Which of the figure A or B will form a solution and why? b) What will happen in figure B after some time? c) If sand is replaced with oil in figure A, what would be your observation?	3
29.	To which type of category do these plants Rose, Mango and Tomato belong to? Write any two important characters necessary to group them.	3
30.	 <p>Observe the given figure and answer the given questions.</p> a) Name the organs protected by this part of the skeletal system. b) Mention the large bone in the front and the small bones at the back to which the curved pairs of bones are attached? c) How are the last two pairs different from the other pairs of curved bones?	3
31.	Ganapat has an electric cell and a single piece of connecting wire. Without cutting the wire into two, will he be able to make the bulb glow? Explain with the help of a circuit diagram.	3

32.

a) Rajiv measured the length of the pole. It was 4 meters long, express this in centimetres.

b) Name the type of motion observed in the following

(i) Spinning top

(ii) Plucking of the rubber band

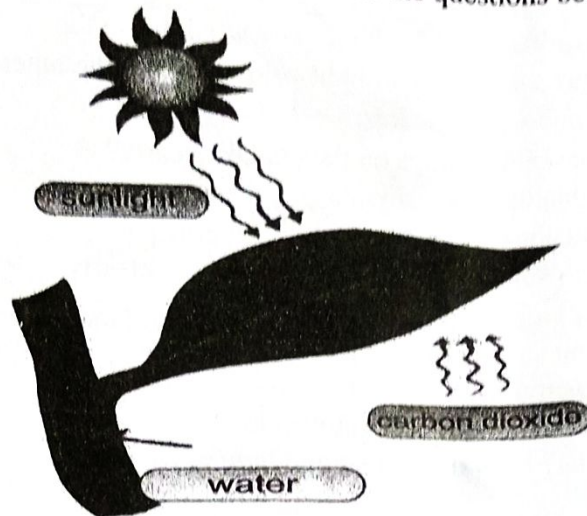
(iii) Movement of the swing

(iv) Shotput thrown by an athlete

3

33.

Observe the given figure and answer the questions below.



a) Name the process seen in the given figure.

b) Where does exchange of gases occur in the leaves? Name the gases that are required and released in this process.

c) Mention the pigment that helps in this process. Write its role in this process.

3

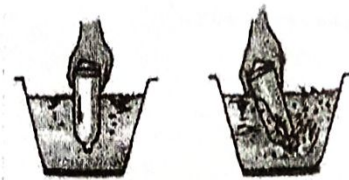
SECTION D

Section D consists of 3 questions of 5 marks each.


34.

a) Observe the given pictures A and B and write the property of air shown in the picture.

A



B



b) The gas X is colourless and odourless, having a slightly sour taste which is a minor component of air. It is moderately soluble in water. This gas neither burns nor supports burning. It rather extinguishes burning fire. If there was no gas X in air, then there would be no plants or animals existing on earth.

i) Name the gas X.

ii) State the percentage of gas X in air.

iii) Why is gas X important for our life?

5

35.

a) Draw a neat labelled diagram of a flower.

b) Write any two important functions of the stem.

5



SINDHI HIGH SCHOOL, BENGALURU.
HALF-YEARLY EXAMINATION (2023-24)
SOCIAL SCIENCE

CLASS: 6

DATE: 6 /10/23

No of sides: 9

Max Marks: 80

Duration: 2 hours 45 mins.

Reading time: 8.00-8.15am

Writing time: 8.15 – 10.45am

General Instructions:

- 1 The question paper comprises Six Sections – A, B, C, D, E and F. There are 38 questions in the Question paper. All questions are compulsory.
2. **Section A**- From questions 1 to 20 are MCQs of 1 mark each.
3. **Section B** - Question no. 21 to 24 are Very Short Answer Type Questions, carrying 2 marks each.
4. **Sections C** – Question no. 25 to 30 are Short Answer Type Questions, carrying 3 marks each.
5. **Sections D** - Question no. 31 to 34 are Long Answer Type Questions, carrying 5 marks each.
6. **Sections E** – Questions no. 35 to 37 are case based questions with three sub questions and are of 4 marks each.
7. **Sections F** – Question no. 38 is map based, from History (2 marks)

SECTION – A (1x20=20)


1	This site is located in a fertile plain, near the Bolan Pass, which is one of the most important routes into Iran. a. Burzahom c. Hunsgi b. Mehrgarh d. Bhimbetka	1

2 Identify the incorrect statement. 1

- a. Drains were carefully laid out with gentle slope.
- b. Drains in houses were connected to those on streets.
- c. It was used during special occasions.
- d. They were covered and had inspection holes provided at regular intervals to clean them.

3 Keeping in mind the four Vedas and find the odd one out. 1

- a. Rigveda
- b. Samaveda
- c. Ayurveda
- d. Yajurveda

4  1

Carefully look at the given picture and identify the statement which is incorrect about it.

- a. These stone boulders were carefully arranged.
- b. This type of megalith is known as a cist.
- c. Some megaliths can be seen on the surface, other megalithic burials are often underground.
- d. The practice of erecting megaliths began about 5000 years ago, and was prevalent throughout the Deccan, south India, in the north-east and Kashmir.

5 Three sentences are given below with blanks. Choose one word from the given options which will meaningfully complete all the three sentences. 1

1. _____ were the opponents of Aryas.

	<p>2. _____ were people who did not perform sacrifices.</p> <p>3. _____ were treated as the property of their owners, who could make them do whatever work they wanted.</p> <p>a. Rajas</p> <p>b. Brahmanas</p> <p>c. Dasa or Dasyus</p> <p>d. Vish</p>	
6	<p>Sind was re-established as a province of Pakistan in _____.</p> <p>a. 1955</p> <p>b. 1970</p> <p>c. 1907</p> <p>d. 1790</p>	1
7	<p>State true or false.</p> <p>Important sites, such as Mohanjo-Daro, Amri and KotDiji have left a record of the achievements of the ancient Harappan civilization in the areas of city planning and economic production and social organization.</p> <p>a. True</p> <p>b. False</p>	1
8	<p>Choose the correct option to fill in the blanks:</p> <p>Inamgaon is a site on the river _____ a tributary of the Bhima.</p> <p>a. Indus</p> <p>b. Narmada</p> <p>c. Ganga</p> <p>d. Ghod</p>	1
9	<p>Match the following:</p>	

	A	B	
	1. Dzos 2. Kesar Saga 3. Cheenachatti 4. Pashmina a. 1-ii, 2-iv, 3-i, 4-iii b. 1-i, 2-ii, 3-iii, 4-iv c. 1-iii, 2-ii, 3-iv, 4-i d. 1-iv, 2-ii, 3-i, 4-iii	i. Utenail ii. Epic iii. Shawls iv. Yak-cow	1
10	In which city of India is Jallianwala Bagh situated? a. Amritsar b. Mumbai c. Patna d. Pune		1
11	How does the government of India refer to the group of people who are Dalits? a. Stereotyped Community b. Lower Castes c. Scheduled Castes d. Scheduled Tribes		1
12	Which of the following prevents a Gram Panchayat from doing wrong things? a. People of the locality b. State Government c. Gram Sabha d. Zila Parishad		1
13	In the given question given below, there are two statements marked as Assertion (A) and Reason (R). Read the statement and choose the correct option. A. The gram panchayat is elected for five years.		1

	<p>R. The gram panchayat has a secretary who is also the secretary of the Gram Sabha.</p> <p>a. Both A and R are true and R is the correct explanation of A</p> <p>b. Both A and R are true but R is not the correct explanation of A</p> <p>c. A is true but R is false</p> <p>d. A is false but R is true.</p>	
14	<p>Asteroids are found between the</p> <p>a. Mars and the Earth</p> <p>b. Moon and the Earth</p> <p>c. Mars and the Jupiter</p> <p>d. Sun and the Earth</p>	1
15	<p>Find the odd one out:</p> <p>a. Equator</p> <p>b. Prime Meridian</p> <p>c. Tropic of cancer</p> <p>d. Antarctic circle</p>	1
16	<p>All the planets move around the sun in fixed elliptical path, these paths are called</p> <p>a. Axis</p> <p>b. Orbit</p> <p>c. Both (a) and (b)</p> <p>d. None of these</p>	1
17	<p>The circle that divides the day from night on the Globe is called the</p> <p>a. Circle of illumination</p> <p>b. Orbital plane</p> <p>b. Elliptical path</p> <p>d. Equator</p>	1
18	<p>On 21st March and September 23rd the direct rays of the sun fall on the</p> <p>a. North Pole</p> <p>b. Tropic of cancer</p> <p>c. Arctic Circle</p> <p>d. Equator</p>	1
19	<p>Find the reasons: If the earth did not rotate</p> <p>a. Cold conditions on earth's half portion</p>	1

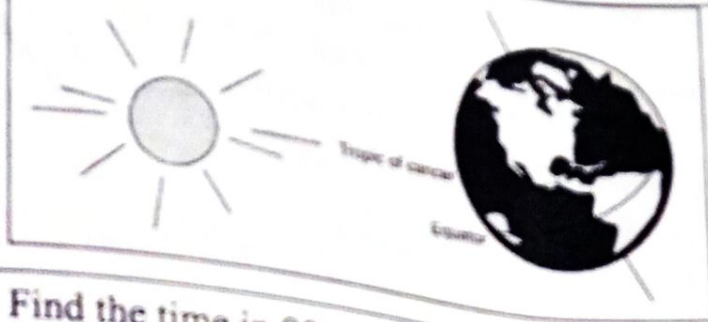
	b. Warm conditions 'on earth's another half portion c. No life possible in such extreme conditions d. All of these	
20	The daily motion of the earth is _____ a. Rotation c. Both b. Revolution d. None	1

SECTION - B (2x4=8)

21	Lives of farmers and herders would have been different from that of hunter-gatherers. Justify.	2
22	"The State Government provides various schemes for the welfare of the people" - Substantiate this statement with two benefits of the BPL card holders.	2
23	Explain the term representative democracies.	2
24	Suppose you were asked to go to Sydney(Australia) for a meeting from New Delhi on the 20 th of June a. What kind of clothes will you be carrying with you? b. Which season will you experience there?	2

SECTION - C (3x6=18)

25	"Hunter-gatherers moved from place to place." Analyse.	3
26	Provide evidence to find out whether there were social differences amongst those who were buried according to the study of Archaeologists.	3
27	a. Define: The Panchayat Raj System b. Mention the role of the secretary of the Gram panchayat.	3
28	"Our earth has only one satellite." Discuss.	3
29	Observe the given diagram and summarise it.	3



30 Find the time in 90° E. if the time in 0° Prime meridian is 3pm. 3

SECTION - D (5x4=20)

31 Evaluate the causes of the decline of the Harappan Civilisation. 5

32 Differentiate the two types of government. 5

33 Illustrate and explain the Heat zones of the earth. 5

34 How can the stereotype that girls are a burden on their parents affect the life of a daughter? Imagine this situation and list five different effects that this stereotype can have on the way daughters get treated in the house. 5

SECTION - E (4x3=12)

35 Read the given extract and answer the following questions.

Over the years, many manuscripts were eaten away by insects, some were destroyed, but many have survived. These books dealt with all kinds of subjects. Many were written in Sanskrit, others were in Prakrit and Tamil.

- What are manuscripts?
- _____ was the language of the common man.
- Mention two places where have they been preserved?

1
1
2

36 Read the given extract and answer the following questions.

While Kerala and Ladakh are quite different in terms of their geographical features, the history of both regions has been

similar cultural influences. Both regions were influenced by Chinese and Arab traders. It was the geography of Kerala which allowed for the cultivation of spices and the special geographical location of Ladakh and its wool that drew traders to these regions.

- a. Highlight the locations of Kerala and Ladakh.
- b. What are they known as?

2

2

37 Read the given extract and answer the following questions.

While watching the night sky, we may notice various patterns formed by different groups of stars. These are called constellation. Ursa Major or Big Bear is one such constellation. In ancient times people used to determine directions during the night with the help of stars. Some celestial bodies do not have their own heat and light.

- a) Which is the most easily recognisable constellation?
- b) What is the North Star?
- c) The word planet comes from the Greek word "Planetai" means
- d) How can we locate the position of the Pole Star?

1

1

1

1

SECTION - F (2x1=2)

38 **Map Work:**

Identify the following in the given map of India:-

- a. The Places where rice was first grown are to the north of this range.
- b. People have lived along the banks of this river for several hundred thousand years.

2

Name Class Sec Roll No,

